

Муниципальное бюджетное общеобразовательное учреждение
«Средняя общеобразовательная школа №12 им академика В.И. Кудинова»
города Воткинска Удмуртской Республики

РАССМОТРЕНО
на заседании ШМО
Протокол №1
От «28» августа 2024 г

ПРИНЯТО
на педагогическом совете
Протокол №1
от «29» августа 2024 г

УТВЕРЖДАЮ:
Директор МБОУ СОШ №12
Г.М. Кельдибекова
Приказ № 337-ос от 30.08.2024

РАБОЧАЯ ПРОГРАММА

учебного предмета «Геометрия»
для обучающихся 7-9 классов

(ID 2594398)

ПОЯСНИТЕЛЬНАЯ ЗАПИСКА

Геометрия как один из основных разделов школьной математики, имеющий своей целью обеспечить изучение свойств и размеров фигур, их отношений и взаимное расположение, опирается на логическую, доказательную линию. Ценность изучения геометрии на уровне основного общего образования заключается в том, что обучающийся учится проводить доказательные рассуждения, строить логические умозаключения, доказывать истинные утверждения и строить контрпримеры к ложным, проводить рассуждения «от противного», отличать свойства от признаков, формулировать обратные утверждения.

Второй целью изучения геометрии является использование её как инструмента при решении как математических, так и практических задач, встречающихся в реальной жизни. Обучающийся должен научиться определить геометрическую фигуру, описать словами данный чертёж или рисунок, найти площадь земельного участка, рассчитать необходимую длину оптоволоконного кабеля или требуемые размеры гаража для автомобиля. Этому соответствует вторая, вычислительная линия в изучении геометрии. При решении задач практического характера обучающийся учится строить математические модели реальных жизненных ситуаций, проводить вычисления и оценивать адекватность полученного результата.

Крайне важно подчёркивать связи геометрии с другими учебными предметами, мотивировать использовать определения геометрических фигур и понятий, демонстрировать применение полученных умений в физике и технике. Эти связи наиболее ярко видны в темах «Векторы», «Тригонометрические соотношения», «Метод координат» и «Теорема Пифагора».

Учебный курс «Геометрия» включает следующие основные разделы содержания: «Геометрические фигуры и их свойства», «Измерение геометрических величин», «Декартовы координаты на плоскости», «Векторы», «Движения плоскости», «Преобразования подобия».

На изучение учебного курса «Геометрия» отводится 204 часа: в 7 классе – 68 часов (2 часа в неделю), в 8 классе – 68 часов (2 часа в неделю), в 9 классе – 68 часов (2 часа в неделю).

СОДЕРЖАНИЕ ОБУЧЕНИЯ

7 КЛАСС

Начальные понятия геометрии. Точка, прямая, отрезок, луч. Угол. Виды углов. Вертикальные и смежные углы. Биссектриса угла. Ломаная, многоугольник. Параллельность и перпендикулярность прямых.

Симметричные фигуры. Основные свойства осевой симметрии. Примеры симметрии в окружающем мире.

Основные построения с помощью циркуля и линейки. Треугольник. Высота, медиана, биссектриса, их свойства.

Равнобедренный и равносторонний треугольники. Неравенство треугольника.

Свойства и признаки равнобедренного треугольника. Признаки равенства треугольников.

Свойства и признаки параллельных прямых. Сумма углов треугольника. Внешние углы треугольника.

Прямоугольный треугольник. Свойство медианы прямоугольного треугольника, проведённой к гипотенузе. Признаки равенства прямоугольных треугольников. Прямоугольный треугольник с углом в 30° .

Неравенства в геометрии: неравенство треугольника, неравенство о длине ломаной, теорема о большем угле и большей стороне треугольника. Перпендикуляр и наклонная.

Геометрическое место точек. Биссектриса угла и серединный перпендикуляр к отрезку как геометрические места точек.

Окружность и круг, хорда и диаметр, их свойства. Взаимное расположение окружности и прямой. Касательная и секущая к окружности. Окружность, вписанная в угол. Вписанная и описанная окружности треугольника.

8 КЛАСС

Четырёхугольники. Параллелограмм, его признаки и свойства. Частные случаи параллелограммов (прямоугольник, ромб, квадрат), их признаки и свойства. Трапеция, равнобокая трапеция, её свойства и признаки. Прямоугольная трапеция.

Метод удвоения медианы. Центральная симметрия. Теорема Фалеса и теорема о пропорциональных отрезках.

Средние линии треугольника и трапеции. Центр масс треугольника.

Подобие треугольников, коэффициент подобия. Признаки подобия треугольников. Применение подобия при решении практических задач.

Свойства площадей геометрических фигур. Формулы для площади треугольника, параллелограмма, ромба и трапеции. Отношение площадей подобных фигур.

Вычисление площадей треугольников и многоугольников на клетчатой бумаге.

Теорема Пифагора. Применение теоремы Пифагора при решении практических задач.

Синус, косинус, тангенс острого угла прямоугольного треугольника. Основное тригонометрическое тождество. Тригонометрические функции углов в 30 , 45 и 60° .

Вписанные и центральные углы, угол между касательной и хордой. Углы между хордами и секущими. Вписанные и описанные четырёхугольники. Взаимное расположение двух окружностей. Касание окружностей. Общие касательные к двум окружностям.

9 КЛАСС

Синус, косинус, тангенс углов от 0 до 180° . Основное тригонометрическое тождество. Формулы приведения.

Решение треугольников. Теорема косинусов и теорема синусов. Решение практических задач с использованием теоремы косинусов и теоремы синусов.

Преобразование подобия. Подобие соответственных элементов.

Теорема о произведении отрезков хорд, теоремы о произведении отрезков секущих, теорема о квадрате касательной.

Вектор, длина (модуль) вектора, сонаправленные векторы, противоположно направленные векторы, коллинеарность векторов, равенство векторов, операции над векторами. Разложение вектора по двум неколлинеарным векторам. Координаты вектора. Скалярное произведение векторов, применение для нахождения длин и углов.

Декартовы координаты на плоскости. Уравнения прямой и окружности в координатах, пересечение окружностей и прямых. Метод координат и его применение.

Правильные многоугольники. Длина окружности. Градусная и радианная мера угла, вычисление длин дуг окружностей. Площадь круга, сектора, сегмента.

Движения плоскости и внутренние симметрии фигур (элементарные представления). Параллельный перенос. Поворот.

ПЛАНИРУЕМЫЕ РЕЗУЛЬТАТЫ ОСВОЕНИЯ ПРОГРАММЫ УЧЕБНОГО КУРСА «ГЕОМЕТРИЯ» НА УРОВНЕ ОСНОВНОГО ОБЩЕГО ОБРАЗОВАНИЯ

ЛИЧНОСТНЫЕ РЕЗУЛЬТАТЫ

Личностные результаты освоения программы учебного курса «Геометрия» характеризуются:

1) патриотическое воспитание:

проявлением интереса к прошлому и настоящему российской математики, ценностным отношением к достижениям российских математиков и российской математической школы, к использованию этих достижений в других науках и прикладных сферах;

2) гражданское и духовно-нравственное воспитание:

готовностью к выполнению обязанностей гражданина и реализации его прав, представлением о математических основах функционирования различных структур, явлений, процедур гражданского общества (например, выборы, опросы), готовностью к обсуждению этических проблем, связанных с практическим применением достижений науки, осознанием важности морально-этических принципов в деятельности учёного;

3) трудовое воспитание:

установкой на активное участие в решении практических задач математической направленности, осознанием важности математического образования на протяжении всей жизни для успешной профессиональной деятельности и развитием необходимых умений, осознанным выбором и построением индивидуальной траектории образования и жизненных планов с учётом личных интересов и общественных потребностей;

4) эстетическое воспитание:

способностью к эмоциональному и эстетическому восприятию математических объектов, задач, решений, рассуждений, умению видеть математические закономерности в искусстве;

5) ценности научного познания:

ориентацией в деятельности на современную систему научных представлений об основных закономерностях развития человека, природы и общества, пониманием математической науки как сферы человеческой деятельности, этапов её развития и значимости для развития цивилизации, овладением языком математики и математической культурой как средством познания мира, овладением простейшими навыками исследовательской деятельности;

6) физическое воспитание, формирование культуры здоровья и эмоционального благополучия:

готовностью применять математические знания в интересах своего здоровья, ведения здорового образа жизни (здоровое питание, сбалансированный режим занятий и отдыха, регулярная физическая

активность), сформированностью навыка рефлексии, признанием своего права на ошибку и такого же права другого человека;

7) экологическое воспитание:

ориентацией на применение математических знаний для решения задач в области сохранности окружающей среды, планирования поступков и оценки их возможных последствий для окружающей среды, осознанием глобального характера экологических проблем и путей их решения;

8) адаптация к изменяющимся условиям социальной и природной среды:

готовностью к действиям в условиях неопределённости, повышению уровня своей компетентности через практическую деятельность, в том числе умение учиться у других людей, приобретать в совместной деятельности новые знания, навыки и компетенции из опыта других;

необходимостью в формировании новых знаний, в том числе формулировать идеи, понятия, гипотезы об объектах и явлениях, в том числе ранее неизвестных, осознавать дефициты собственных знаний и компетентностей, планировать своё развитие;

способностью осознавать стрессовую ситуацию, воспринимать стрессовую ситуацию как вызов, требующий контрмер, корректировать принимаемые решения и действия, формулировать и оценивать риски и последствия, формировать опыт.

МЕТАПРЕДМЕТНЫЕ РЕЗУЛЬТАТЫ

Познавательные универсальные учебные действия

Базовые логические действия:

- выявлять и характеризовать существенные признаки математических объектов, понятий, отношений между понятиями, формулировать определения понятий, устанавливать существенный признак классификации, основания для обобщения и сравнения, критерии проводимого анализа;
- воспринимать, формулировать и преобразовывать суждения: утвердительные и отрицательные, единичные, частные и общие, условные;
- выявлять математические закономерности, взаимосвязи и противоречия в фактах, данных, наблюдениях и утверждениях, предлагать критерии для выявления закономерностей и противоречий;
- делать выводы с использованием законов логики, дедуктивных и индуктивных умозаключений, умозаключений по аналогии;

- разбирать доказательства математических утверждений (прямые и от противного), проводить самостоятельно несложные доказательства математических фактов, выстраивать аргументацию, приводить примеры и контрпримеры, обосновывать собственные рассуждения;
- выбирать способ решения учебной задачи (сравнивать несколько вариантов решения, выбирать наиболее подходящий с учётом самостоятельно выделенных критериев).

Базовые исследовательские действия:

- использовать вопросы как исследовательский инструмент познания, формулировать вопросы, фиксирующие противоречие, проблему, самостоятельно устанавливать искомое и данное, формировать гипотезу, аргументировать свою позицию, мнение;
- проводить по самостоятельно составленному плану несложный эксперимент, небольшое исследование по установлению особенностей математического объекта, зависимостей объектов между собой;
- самостоятельно формулировать обобщения и выводы по результатам проведённого наблюдения, исследования, оценивать достоверность полученных результатов, выводов и обобщений;
- прогнозировать возможное развитие процесса, а также выдвигать предположения о его развитии в новых условиях.

Работа с информацией:

- выявлять недостаточность и избыточность информации, данных, необходимых для решения задачи;
- выбирать, анализировать, систематизировать и интерпретировать информацию различных видов и форм представления;
- выбирать форму представления информации и иллюстрировать решаемые задачи схемами, диаграммами, иной графикой и их комбинациями;
- оценивать надёжность информации по критериям, предложенным учителем или сформулированным самостоятельно.

Коммуникативные универсальные учебные действия:

- воспринимать и формулировать суждения в соответствии с условиями и целями общения, ясно, точно, грамотно выражать свою точку зрения в устных и письменных текстах, давать пояснения по ходу решения задачи, комментировать полученный результат;
- в ходе обсуждения задавать вопросы по существу обсуждаемой темы, проблемы, решаемой задачи, высказывать идеи, нацеленные на поиск решения, сопоставлять свои суждения с суждениями других

- участников диалога, обнаруживать различие и сходство позиций, в корректной форме формулировать разногласия, свои возражения;
- представлять результаты решения задачи, эксперимента, исследования, проекта, самостоятельно выбирать формат выступления с учётом задач презентации и особенностей аудитории;
 - понимать и использовать преимущества командной и индивидуальной работы при решении учебных математических задач;
 - принимать цель совместной деятельности, планировать организацию совместной работы, распределять виды работ, договариваться, обсуждать процесс и результат работы, обобщать мнения нескольких людей;
 - участвовать в групповых формах работы (обсуждения, обмен мнениями, мозговые штурмы и другие), выполнять свою часть работы и координировать свои действия с другими членами команды, оценивать качество своего вклада в общий продукт по критериям, сформулированным участниками взаимодействия.

Регулятивные универсальные учебные действия

Самоорганизация:

- самостоятельно составлять план, алгоритм решения задачи (или его часть), выбирать способ решения с учётом имеющихся ресурсов и собственных возможностей, аргументировать и корректировать варианты решений с учётом новой информации.

Самоконтроль, эмоциональный интеллект:

- владеть способами самопроверки, самоконтроля процесса и результата решения математической задачи;
- предвидеть трудности, которые могут возникнуть при решении задачи, вносить коррективы в деятельность на основе новых обстоятельств, найденных ошибок, выявленных трудностей;
- оценивать соответствие результата деятельности поставленной цели и условиям, объяснять причины достижения или недостижения цели, находить ошибку, давать оценку приобретённому опыту.

ПРЕДМЕТНЫЕ РЕЗУЛЬТАТЫ

К концу обучения в 7 классе обучающийся получит следующие предметные результаты:

Распознавать изученные геометрические фигуры, определять их взаимное расположение, изображать геометрические фигуры, выполнять

чертежи по условию задачи. Измерять линейные и угловые величины. Решать задачи на вычисление длин отрезков и величин углов.

Делать грубую оценку линейных и угловых величин предметов в реальной жизни, размеров природных объектов. Различать размеры этих объектов по порядку величины.

Строить чертежи к геометрическим задачам.

Пользоваться признаками равенства треугольников, использовать признаки и свойства равнобедренных треугольников при решении задач.

Проводить логические рассуждения с использованием геометрических теорем.

Пользоваться признаками равенства прямоугольных треугольников, свойством медианы, проведённой к гипотенузе прямоугольного треугольника, в решении геометрических задач.

Определять параллельность прямых с помощью углов, которые образует с ними секущая. Определять параллельность прямых с помощью равенства расстояний от точек одной прямой до точек другой прямой.

Решать задачи на клетчатой бумаге.

Проводить вычисления и находить числовые и буквенные значения углов в геометрических задачах с использованием суммы углов треугольников и многоугольников, свойств углов, образованных при пересечении двух параллельных прямых секущей. Решать практические задачи на нахождение углов.

Владеть понятием геометрического места точек. Уметь определять биссектрису угла и серединный перпендикуляр к отрезку как геометрические места точек.

Формулировать определения окружности и круга, хорды и диаметра окружности, пользоваться их свойствами. Уметь применять эти свойства при решении задач.

Владеть понятием описанной около треугольника окружности, уметь находить её центр. Пользоваться фактами о том, что биссектрисы углов треугольника пересекаются в одной точке, и о том, что серединные перпендикуляры к сторонам треугольника пересекаются в одной точке.

Владеть понятием касательной к окружности, пользоваться теоремой о перпендикулярности касательной и радиуса, проведённого к точке касания.

Пользоваться простейшими геометрическими неравенствами, понимать их практический смысл.

Проводить основные геометрические построения с помощью циркуля и линейки.

К концу обучения в **8 классе** обучающийся получит следующие предметные результаты:

Распознавать основные виды четырёхугольников, их элементы, пользоваться их свойствами при решении геометрических задач.

Применять свойства точки пересечения медиан треугольника (центра масс) в решении задач.

Владеть понятием средней линии треугольника и трапеции, применять их свойства при решении геометрических задач. Пользоваться теоремой Фалеса и теоремой о пропорциональных отрезках, применять их для решения практических задач.

Применять признаки подобия треугольников в решении геометрических задач.

Пользоваться теоремой Пифагора для решения геометрических и практических задач. Строить математическую модель в практических задачах, самостоятельно делать чертёж и находить соответствующие длины.

Владеть понятиями синуса, косинуса и тангенса острого угла прямоугольного треугольника. Пользоваться этими понятиями для решения практических задач.

Вычислять (различными способами) площадь треугольника и площади многоугольных фигур (пользуясь, где необходимо, калькулятором). Применять полученные умения в практических задачах.

Владеть понятиями вписанного и центрального угла, использовать теоремы о вписанных углах, углах между хордами (секущими) и угле между касательной и хордой при решении геометрических задач.

Владеть понятием описанного четырёхугольника, применять свойства описанного четырёхугольника при решении задач.

Применять полученные знания на практике – строить математические модели для задач реальной жизни и проводить соответствующие вычисления с применением подобия и тригонометрии (пользуясь, где необходимо, калькулятором).

К концу обучения в **9 классе** обучающийся получит следующие предметные результаты:

Знать тригонометрические функции острых углов, находить с их помощью различные элементы прямоугольного треугольника («решение прямоугольных треугольников»). Находить (с помощью калькулятора) длины и углы для нетабличных значений.

Пользоваться формулами приведения и основным тригонометрическим тождеством для нахождения соотношений между тригонометрическими величинами.

Использовать теоремы синусов и косинусов для нахождения различных элементов треугольника («решение треугольников»), применять их при решении геометрических задач.

Владеть понятиями преобразования подобия, соответственных элементов подобных фигур. Пользоваться свойствами подобия произвольных фигур, уметь вычислять длины и находить углы у подобных фигур. Применять свойства подобия в практических задачах. Уметь приводить примеры подобных фигур в окружающем мире.

Пользоваться теоремами о произведении отрезков хорд, о произведении отрезков секущих, о квадрате касательной.

Пользоваться векторами, понимать их геометрический и физический смысл, применять их в решении геометрических и физических задач. Применять скалярное произведение векторов для нахождения длин и углов.

Пользоваться методом координат на плоскости, применять его в решении геометрических и практических задач.

Владеть понятиями правильного многоугольника, длины окружности, длины дуги окружности и радианной меры угла, уметь вычислять площадь круга и его частей. Применять полученные умения в практических задачах.

Находить оси (или центры) симметрии фигур, применять движения плоскости в простейших случаях.

Применять полученные знания на практике – строить математические модели для задач реальной жизни и проводить соответствующие вычисления с применением подобия и тригонометрических функций (пользуясь, где необходимо, калькулятором).

ТЕМАТИЧЕСКОЕ ПЛАНИРОВАНИЕ 7 КЛАСС

№ п/п	Наименование разделов и тем программы	Количество часов			Электронные (цифровые) образовательные ресурсы
		Всего	Контрольные работы	Практические работы	
1	Простейшие геометрические фигуры и их свойства. Измерение геометрических величин	14	1		Библиотека ЦОК https://m.edsoo.ru/7f415e2e
2	Треугольники	19	1		Библиотека ЦОК https://m.edsoo.ru/7f415e2e

3	Параллельные прямые, сумма углов треугольника	16	1		Библиотека ЦОК https://m.edsoo.ru/7f415e2e
4	Окружность и круг. Геометрические построения	15	1		Библиотека ЦОК https://m.edsoo.ru/7f415e2e
5	Повторение, обобщение знаний	4	1		Библиотека ЦОК https://m.edsoo.ru/7f415e2e
ОБЩЕЕ КОЛИЧЕСТВО ЧАСОВ ПО ПРОГРАММЕ		68	5	0	

8 КЛАСС

№ п/п	Наименование разделов и тем программы	Количество часов			Электронные (цифровые) образовательные ресурсы
		Всего	Контрольные работы	Практические работы	
1	Четырёхугольники	12	2		Библиотека ЦОК https://m.edsoo.ru/7f417e18
2	Теорема Фалеса и теорема о пропорциональных отрезках, подобные треугольники	15	1		Библиотека ЦОК https://m.edsoo.ru/7f417e18
3	Площадь. Нахождение площадей треугольников и многоугольных фигур. Площади подобных фигур	14	1		Библиотека ЦОК https://m.edsoo.ru/7f417e18
4	Теорема Пифагора и начала тригонометрии	10	1		Библиотека ЦОК https://m.edsoo.ru/7f417e18
5	Углы в окружности.	13	1		Библиотека ЦОК

	Вписанные и описанные четырехугольники. Касательные к окружности. Касание окружностей				https://m.edsoo.ru/7f417e18
6	Повторение, обобщение знаний	4			Библиотека ЦОК https://m.edsoo.ru/7f417e18
ОБЩЕЕ КОЛИЧЕСТВО ЧАСОВ ПО ПРОГРАММЕ		68	6	0	

9 КЛАСС

№ п/п	Наименование разделов и тем программы	Количество часов			Электронные (цифровые) образовательные ресурсы
		Всего	Контрольные работы	Практические работы	
1	Тригонометрия. Теоремы косинусов и синусов. Решение треугольников	16	2		Библиотека ЦОК https://m.edsoo.ru/7f41a12c
2	Преобразование подобия. Метрические соотношения в окружности	10	1		Библиотека ЦОК https://m.edsoo.ru/7f41a12c
3	Векторы	12	1		Библиотека ЦОК https://m.edsoo.ru/7f41a12c
4	Декартовы координаты на плоскости	9	1		Библиотека ЦОК https://m.edsoo.ru/7f41a12c
5	Правильные многоугольники. Длина окружности и площадь круга. Вычисление площадей	8			Библиотека ЦОК https://m.edsoo.ru/7f41a12c
6	Движения плоскости	6			Библиотека ЦОК https://m.edsoo.ru/7f41a12c
7	Повторение, обобщение, систематизация знаний	7	1		Библиотека ЦОК https://m.edsoo.ru/7f41a12c
ОБЩЕЕ КОЛИЧЕСТВО ЧАСОВ ПО ПРОГРАММЕ		68	6	0	

ПОУРОЧНОЕ ПЛАНИРОВАНИЕ 7 КЛАСС

№ п/п	Тема урока		
		Всего	Электронные цифровые образовательные ресурсы
1	Начальные понятия геометрии. Точка, прямая, отрезок.	1	Библиотека ЦОК https://m.edsoo.ru/8866b724
2	Измерение линейных величин, вычисление отрезков.	1	Библиотека ЦОК https://m.edsoo.ru/8866cb6a
3	Ломаная. Многоугольник	1	Библиотека ЦОК https://m.edsoo.ru/8866c5c0
4	Луч. Угол. Измерение углов. Биссектриса угла.	1	Библиотека ЦОК https://m.edsoo.ru/8866c7be
5	Луч. Угол. Измерение углов. Биссектриса угла.	1	
6	Виды углов: Смежные и вертикальные углы	1	
7	Смежные и вертикальные углы	1	
8	Смежные и вертикальные углы	1	
9	Смежные и вертикальные углы	1	
10	Смежные и вертикальные углы	1	Библиотека ЦОК https://m.edsoo.ru/8866c3ea
11	Перпендикулярность прямых. Перпендикуляр и наклонная.	1	
12	Перпендикулярность прямых. Перпендикуляр и наклонная.	1	
13	Симметричные фигуры. Основные свойства осевой симметрии. Примеры симметрии в окружающем мире.	1	
14	Контрольная работа по теме "Простейшие геометрические фигуры и их свойства"	1	
15	Треугольник. Понятие о равных треугольниках и первичные представления о равных фигурах.	1	Библиотека ЦОК https://m.edsoo.ru/8866ce80
16	Высота, медиана, биссектриса треугольника, их свойства.	1	Библиотека ЦОК https://m.edsoo.ru/8866d1fa
17	Первый признак равенства треугольников	1	Библиотека ЦОК

			https://m.edsoo.ru/8866d34e
18	Первый признак равенства треугольников	1	Библиотека ЦОК https://m.edsoo.ru/8866e01e
19	Второй признак равенства треугольников	1	
20	Второй признак равенства треугольников	1	
21	Равнобедренный и равносторонний треугольники. Свойства равнобедренного треугольника.	1	Библиотека ЦОК https://m.edsoo.ru/8866e88e
22	Свойства равнобедренного треугольника.	1	
23	Признаки равнобедренного треугольника	1	
24	Признаки равнобедренного треугольника	1	Библиотека ЦОК https://m.edsoo.ru/8866e9ec
25	Третий признак равенства треугольников	1	
26	Третий признак равенства треугольников	1	Библиотека ЦОК https://m.edsoo.ru/8866d6fa
27	Прямоугольный треугольник. Признаки равенства прямоугольных треугольников	1	Библиотека ЦОК https://m.edsoo.ru/8866d880
28	Признаки равенства прямоугольных треугольников	1	Библиотека ЦОК https://m.edsoo.ru/8866d880
29	Свойства прямоугольного треугольника.	1	Библиотека ЦОК https://m.edsoo.ru/8866e26c
30	Свойство медианы прямоугольного треугольника, проведённой к гипотенузе	1	
31	Прямоугольный треугольник с углом в 30°	1	Библиотека ЦОК https://m.edsoo.ru/8866e3a2
32	Прямоугольный треугольник с углом в 30°	1	
33	Контрольная работа по теме "Треугольники"	1	
34	Параллельность прямых.	1	Библиотека ЦОК https://m.edsoo.ru/8866eb22
35	Пятый постулат Евклида	1	
36	Признаки параллельных прямых.	1	Библиотека ЦОК https://m.edsoo.ru/8866ecbc
37	Признаки параллельных прямых.	1	Библиотека ЦОК https://m.edsoo.ru/8866ef64
38	Признаки параллельных прямых.	1	
39	Свойства параллельных прямых.	1	Библиотека ЦОК https://m.edsoo.ru/8866f086
40	Свойства параллельных прямых.	1	

41	Свойства параллельных прямых.	1	
42	Свойства и признаки параллельных прямых.	1	
43	Сумма углов треугольника	1	Библиотека ЦОК https://m.edsoo.ru/8866f3b0
44	Сумма углов треугольника	1	
45	Внешние углы треугольника	1	
46	Внешние углы треугольника	1	Библиотека ЦОК https://m.edsoo.ru/8866f630
47	Неравенства в геометрии: неравенство треугольника, неравенство о длине ломаной, теорема о большем угле и большей стороне треугольника	1	Библиотека ЦОК https://m.edsoo.ru/8866f8ba
48	Неравенства в геометрии: неравенство треугольника, неравенство о длине ломаной, теорема о большем угле и большей стороне треугольника	1	Библиотека ЦОК https://m.edsoo.ru/8866fa5e
49	Контрольная работа по теме "Параллельные прямые, сумма углов треугольника"	1	
50	Окружность и круг, хорда и диаметр, их свойства	1	Библиотека ЦОК https://m.edsoo.ru/8866fe6e
51	Взаимное расположение окружности и прямой. Касательная и секущая к окружности.	1	Библиотека ЦОК https://m.edsoo.ru/88670800
52	Окружность, вписанная в угол	1	Библиотека ЦОК https://m.edsoo.ru/88670e9a
53	Окружность, вписанная в угол	1	
54	Понятие о ГМТ, применение в задачах	1	
55	Понятие о ГМТ, применение в задачах	1	Библиотека ЦОК https://m.edsoo.ru/8867013e
56	Биссектриса и серединный перпендикуляр как геометрические места точек	1	Библиотека ЦОК https://m.edsoo.ru/88670508
57	Окружность, описанная около треугольника	1	
58	Окружность, описанная около треугольника	1	Библиотека ЦОК https://m.edsoo.ru/88670a62
59	Окружность, вписанная в треугольник	1	
60	Окружность, вписанная в треугольник	1	Библиотека ЦОК

			https://m.edsoo.ru/8867103e
61	Основные построения с помощью циркуля и линейки. Простейшие задачи на построение	1	
62	Простейшие задачи на построение	1	Библиотека ЦОК https://m.edsoo.ru/88671188
63	Простейшие задачи на построение.	1	Библиотека ЦОК https://m.edsoo.ru/886712d2
64	Контрольная работа по теме "Окружность и круг. Геометрические построения"	1	Библиотека ЦОК https://m.edsoo.ru/88671462
65	Повторение и обобщение знаний основных понятий и методов курса 7 класса	1	Библиотека ЦОК https://m.edsoo.ru/886715b6
66	Повторение и обобщение знаний основных понятий и методов курса 7 класса	1	Библиотека ЦОК https://m.edsoo.ru/886716ec
67	Итоговая контрольная работа	1	
68	Повторение и обобщение знаний основных понятий и методов курса 7 класса	1	Библиотека ЦОК https://m.edsoo.ru/886719bc
ОБЩЕЕ КОЛИЧЕСТВО ЧАСОВ ПО ПРОГРАММЕ		68	

8 КЛАСС

№ п/п	Тема урока	Электронные цифровые образовательные ресурсы	
		Всего	
1	Многоугольник. Выпуклый и невыпуклый многоугольник, свойство внутренних углов выпуклого многоугольника	1	Библиотека ЦОК https://m.edsoo.ru/88671af2
2	Параллелограмм, его признаки и свойства	1	Библиотека ЦОК https://m.edsoo.ru/88671ca0
3	Параллелограмм, его признаки и свойства	1	Библиотека ЦОК https://m.edsoo.ru/88671ca0
4	Частные случаи параллелограммов (прямоугольник, ромб, квадрат), их признаки и свойства	1	Библиотека ЦОК https://m.edsoo.ru/88671dea
5	Частные случаи параллелограммов (прямоугольник, ромб, квадрат), их признаки и свойства	1	Библиотека ЦОК https://m.edsoo.ru/88671f20

6	Входная контрольная работа	1	Библиотека ЦОК https://m.edsoo.ru/8867209c
7	Трапеция	1	Библиотека ЦОК https://m.edsoo.ru/88672358
8	Равнобокая и прямоугольная трапеции	1	Библиотека ЦОК https://m.edsoo.ru/8867252e
9	Равнобокая и прямоугольная трапеции	1	Библиотека ЦОК https://m.edsoo.ru/88672858
10	Метод удвоения медианы	1	Библиотека ЦОК https://m.edsoo.ru/88672b14
11	Центральная симметрия	1	Библиотека ЦОК https://m.edsoo.ru/88672b14
12	Контрольная работа по теме "Четырёхугольники"	1	Библиотека ЦОК https://m.edsoo.ru/88672c9a
13	Теорема Фалеса и теорема о пропорциональных отрезках	1	Библиотека ЦОК https://m.edsoo.ru/8867337a
14	Средняя линия треугольника	1	Библиотека ЦОК https://m.edsoo.ru/88672e0c
15	Средняя линия треугольника	1	Библиотека ЦОК https://m.edsoo.ru/88672f38
16	Трапеция, её средняя линия	1	Библиотека ЦОК https://m.edsoo.ru/88672358
17	Трапеция, её средняя линия	1	Библиотека ЦОК https://m.edsoo.ru/88673064
18	Пропорциональные отрезки	1	Библиотека ЦОК https://m.edsoo.ru/88673794
19	Пропорциональные отрезки	1	Библиотека ЦОК https://m.edsoo.ru/88673794
20	Центр масс в треугольнике	1	Библиотека ЦОК https://m.edsoo.ru/886738fc
21	Подобные треугольники	1	Библиотека ЦОК https://m.edsoo.ru/88673a78
22	Три признака подобия треугольников	1	Библиотека ЦОК https://m.edsoo.ru/88673bae
23	Три признака подобия треугольников	1	Библиотека ЦОК https://m.edsoo.ru/88673d52
24	Три признака подобия треугольников	1	Библиотека ЦОК https://m.edsoo.ru/8867400e
25	Три признака подобия треугольников	1	
26	Применение подобия при решении практических задач	1	

27	Контрольная работа по теме "Подобные треугольники"	1	Библиотека ЦОК https://m.edsoo.ru/8867445a
28	Свойства площадей геометрических фигур	1	Библиотека ЦОК https://m.edsoo.ru/886745fe
29	Формулы для площади треугольника, параллелограмма	1	Библиотека ЦОК https://m.edsoo.ru/88674860
30	Формулы для площади треугольника, параллелограмма	1	Библиотека ЦОК https://m.edsoo.ru/88674a22
31	Формулы для площади треугольника, параллелограмма	1	Библиотека ЦОК https://m.edsoo.ru/88674a22
32	Формулы для площади треугольника, параллелограмма	1	Библиотека ЦОК https://m.edsoo.ru/88675288
33	Формулы для площади треугольника, параллелограмма	1	Библиотека ЦОК https://m.edsoo.ru/8867542c
34	Вычисление площадей сложных фигур	1	Библиотека ЦОК https://m.edsoo.ru/88674e78
35	Площади фигур на клетчатой бумаге	1	Библиотека ЦОК https://m.edsoo.ru/8867473e
36	Площади подобных фигур	1	
37	Площади подобных фигур	1	
38	Задачи с практическим содержанием	1	Библиотека ЦОК https://m.edsoo.ru/88675558
39	Задачи с практическим содержанием	1	Библиотека ЦОК https://m.edsoo.ru/88675684
40	Решение задач с помощью метода вспомогательной площади	1	Библиотека ЦОК https://m.edsoo.ru/88674f90
41	Контрольная работа по теме "Площадь"	1	Библиотека ЦОК https://m.edsoo.ru/8867579c
42	Теорема Пифагора и её применение	1	Библиотека ЦОК https://m.edsoo.ru/88675918
43	Теорема Пифагора и её применение	1	Библиотека ЦОК https://m.edsoo.ru/88675918
44	Теорема Пифагора и её применение	1	Библиотека ЦОК https://m.edsoo.ru/88675abc
45	Теорема Пифагора и её применение	1	
46	Теорема Пифагора и её применение	1	
47	Определение тригонометрических функций острого угла прямоугольного треугольника, тригонометрические соотношения в прямоугольном треугольнике	1	Библиотека ЦОК https://m.edsoo.ru/88675d32

48	Основное тригонометрическое тождество	1	Библиотека ЦОК https://m.edsoo.ru/88675f44
49	Основное тригонометрическое тождество	1	
50	Основное тригонометрическое тождество	1	
51	Контрольная работа по теме "Теорема Пифагора и начала тригонометрии"	1	Библиотека ЦОК https://m.edsoo.ru/8a1407e8
52	Вписанные и центральные углы, угол между касательной и хордой	1	Библиотека ЦОК https://m.edsoo.ru/8a1415b2
53	Вписанные и центральные углы, угол между касательной и хордой	1	Библиотека ЦОК https://m.edsoo.ru/8a141940
54	Вписанные и центральные углы, угол между касательной и хордой	1	Библиотека ЦОК https://m.edsoo.ru/8a141b34
55	Углы между хордами и секущими	1	
56	Углы между хордами и секущими	1	
57	Вписанные и описанные четырёхугольники, их признаки и свойства	1	Библиотека ЦОК https://m.edsoo.ru/8a140f86
58	Вписанные и описанные четырёхугольники, их признаки и свойства	1	Библиотека ЦОК https://m.edsoo.ru/8a1416d4
59	Вписанные и описанные четырёхугольники, их признаки и свойства	1	Библиотека ЦОК https://m.edsoo.ru/8a1416d4
60	Применение свойств вписанных и описанных четырёхугольников при решении геометрических задач	1	
61	Применение свойств вписанных и описанных четырёхугольников при решении геометрических задач	1	
62	Взаимное расположение двух окружностей, общие касательные	1	Библиотека ЦОК https://m.edsoo.ru/8a1410a8
63	Касание окружностей	1	Библиотека ЦОК https://m.edsoo.ru/8a1410a8
64	Итоговая контрольная работа	1	Библиотека ЦОК https://m.edsoo.ru/8a141c88
65	Повторение основных понятий и методов курсов 7 и 8 классов, обобщение знаний	1	Библиотека ЦОК https://m.edsoo.ru/8a141ddc
66	Повторение основных понятий и методов курсов 7 и 8 классов, обобщение знаний	1	Библиотека ЦОК https://m.edsoo.ru/8a141efe
67	Повторение основных понятий и методов курсов 7 и 8 классов, обобщение знаний	1	Библиотека ЦОК https://m.edsoo.ru/8a142368
68	Повторение основных понятий и методов курсов 7 и 8 классов, обобщение знаний	1	Библиотека ЦОК https://m.edsoo.ru/8a1420ac

9 КЛАСС

№ п/п	Тема урока		
		Всего	Электронные цифровые образовательные ресурсы
1	Определение тригонометрических функций углов от 0° до 180°	1	Библиотека ЦОК https://m.edsoo.ru/8a1424bc
2	Формулы приведения	1	
3	Теорема косинусов	1	Библиотека ЦОК https://m.edsoo.ru/8a14336c
4	Теорема косинусов	1	
5	Теорема косинусов	1	Библиотека ЦОК https://m.edsoo.ru/8a142d5e
6	Входная контрольная работа	1	Библиотека ЦОК https://m.edsoo.ru/8a142e8a
7	Теорема синусов	1	
8	Теорема синусов	1	
9	Нахождение длин сторон и величин углов треугольников	1	Библиотека ЦОК https://m.edsoo.ru/8a1430b0
10	Решение треугольников	1	Библиотека ЦОК https://m.edsoo.ru/8a142ac0
11	Решение треугольников	1	Библиотека ЦОК https://m.edsoo.ru/8a142ac0
12	Решение треугольников	1	Библиотека ЦОК https://m.edsoo.ru/8a142ac0
13	Решение треугольников	1	Библиотека ЦОК https://m.edsoo.ru/8a142ac0
14	Практическое применение теорем синусов и косинусов	1	Библиотека ЦОК https://m.edsoo.ru/8a142c3c
15	Практическое применение теорем синусов и косинусов	1	
16	Контрольная работа по теме "Решение треугольников"	1	Библиотека ЦОК https://m.edsoo.ru/8a14392a
17	Понятие о преобразовании подобия	1	Библиотека ЦОК https://m.edsoo.ru/8a143ab0
18	Соответственные элементы подобных фигур	1	Библиотека ЦОК https://m.edsoo.ru/8a143de4
19	Соответственные элементы подобных	1	

	фигур		
20	Теорема о произведении отрезков хорд, теорема о произведении отрезков секущих, теорема о квадрате касательной	1	Библиотека ЦОК https://m.edsoo.ru/8a14406e
21	Теорема о произведении отрезков хорд, теорема о произведении отрезков секущих, теорема о квадрате касательной	1	Библиотека ЦОК https://m.edsoo.ru/8a1441a4
22	Теорема о произведении отрезков хорд, теорема о произведении отрезков секущих, теорема о квадрате касательной	1	Библиотека ЦОК https://m.edsoo.ru/8a1442da
23	Применение теорем в решении геометрических задач	1	Библиотека ЦОК https://m.edsoo.ru/8a143f06
24	Применение теорем в решении геометрических задач	1	Библиотека ЦОК https://m.edsoo.ru/8a1443fc
25	Применение теорем в решении геометрических задач	1	Библиотека ЦОК https://m.edsoo.ru/8a144578
26	Контрольная работа по теме "Преобразование подобия. Метрические соотношения в окружности"	1	Библиотека ЦОК https://m.edsoo.ru/8a1447a8
27	Определение векторов. Физический и геометрический смысл векторов	1	Библиотека ЦОК https://m.edsoo.ru/8a144960
28	Сложение и вычитание векторов, умножение вектора на число	1	Библиотека ЦОК https://m.edsoo.ru/8a144a8c
29	Сложение и вычитание векторов, умножение вектора на число	1	Библиотека ЦОК https://m.edsoo.ru/8a144d52
30	Сложение и вычитание векторов, умножение вектора на число	1	
31	Разложение вектора по двум неколлинеарным векторам	1	
32	Координаты вектора	1	Библиотека ЦОК https://m.edsoo.ru/8a144fbe
33	Скалярное произведение векторов, его применение для нахождения длин и углов	1	Библиотека ЦОК https://m.edsoo.ru/8a14539c
34	Скалярное произведение векторов, его применение для нахождения длин и углов	1	Библиотека ЦОК https://m.edsoo.ru/8a14550e
35	Решение задач с помощью векторов	1	Библиотека ЦОК https://m.edsoo.ru/8a144c3a
36	Решение задач с помощью векторов	1	Библиотека ЦОК https://m.edsoo.ru/8a1458c4
37	Применение векторов для решения задач	1	

	физики		
38	Контрольная работа по теме "Векторы"	1	Библиотека ЦОК https://m.edsoo.ru/8a145b08
39	Декартовы координаты точек на плоскости	1	
40	Уравнение прямой	1	Библиотека ЦОК https://m.edsoo.ru/8a145c48
41	Уравнение прямой	1	
42	Уравнение окружности	1	Библиотека ЦОК https://m.edsoo.ru/8a14635a
43	Координаты точек пересечения окружности и прямой	1	Библиотека ЦОК https://m.edsoo.ru/8a146620
44	Метод координат при решении геометрических задач, практических задач	1	
45	Метод координат при решении геометрических задач, практических задач	1	
46	Метод координат при решении геометрических задач, практических задач	1	
47	Контрольная работа по теме "Декартовы координаты на плоскости"	1	Библиотека ЦОК https://m.edsoo.ru/8a146e0e
48	Правильные многоугольники, вычисление их элементов	1	Библиотека ЦОК https://m.edsoo.ru/8a146fda
49	Число π . Длина окружности	1	Библиотека ЦОК https://m.edsoo.ru/8a1472c8
50	Число π . Длина окружности	1	Библиотека ЦОК https://m.edsoo.ru/8a14714c
51	Длина дуги окружности	1	
52	Радианная мера угла	1	Библиотека ЦОК https://m.edsoo.ru/8a14714c
53	Площадь круга, сектора, сегмента	1	Библиотека ЦОК https://m.edsoo.ru/8a147426
54	Площадь круга, сектора, сегмента	1	Библиотека ЦОК https://m.edsoo.ru/8a147750
55	Площадь круга, сектора, сегмента	1	Библиотека ЦОК https://m.edsoo.ru/8a147750
56	Понятие о движении плоскости	1	Библиотека ЦОК https://m.edsoo.ru/8a147c82
57	Параллельный перенос, поворот	1	Библиотека ЦОК https://m.edsoo.ru/8a147f16
58	Параллельный перенос, поворот	1	Библиотека ЦОК https://m.edsoo.ru/8a147f16

59	Параллельный перенос, поворот	1	
60	Параллельный перенос, поворот	1	
61	Применение движений при решении задач	1	Библиотека ЦОК https://m.edsoo.ru/8a1480e2
62	Итоговая контрольная работа	1	
63	Повторение, обобщение, систематизация знаний. Измерение геометрических величин. Треугольники	1	Библиотека ЦОК https://m.edsoo.ru/8a148524
64	Повторение, обобщение, систематизация знаний. Параллельные и перпендикулярные прямые	1	Библиотека ЦОК https://m.edsoo.ru/8a148650
65	Повторение, обобщение, систематизация знаний. Окружность и круг. Геометрические построения. Углы в окружности	1	
66	Повторение, обобщение, систематизация знаний. Вписанные и описанные окружности многоугольников	1	
67	Повторение, обобщение, систематизация знаний. Вписанные и описанные окружности многоугольников	1	Библиотека ЦОК https://m.edsoo.ru/8a148920
68	Повторение, обобщение, систематизация знаний	1	
ОБЩЕЕ КОЛИЧЕСТВО ЧАСОВ ПО ПРОГРАММЕ		68	

Система оценки планируемых результатов

Для оценки планируемых результатов данной программой предусмотрено использование:

- вопросов и заданий для самостоятельной подготовки;
- заданий для подготовки к итоговой аттестации;
- тестовых задания для самоконтроля;

Виды контроля и результатов обучения

1. Текущий контроль
2. Тематический контроль
3. Итоговый контроль

Методы и формы организации контроля

1. Устный опрос.
2. Монологическая форма устного ответа.
3. Письменный опрос:
 - a. Математический диктант;
 - b. Самостоятельная работа;
 - c. Контрольная работа.

Особенности контроля и оценки по математике

Текущий контроль осуществляется как в письменной, так и в устной форме при выполнении заданий в тетради.

Письменные работы можно проводить в виде тестовых или самостоятельных работ на бумаге. Время работы в зависимости от сложности работы 5-10 или 15-20 минут урока. При этом возможно введение оценки «за общее впечатление от письменной работы» (аккуратность, эстетика, чистота, и т.д.). Эта отметка дополнительная и в журнал выносится по желанию ребенка.

Итоговый контроль проводится в форме контрольных работ практического типа. В этих работах с начала отдельно оценивается выполнение каждого задания, а затем вводится итоговая отметка. При этом итоговая отметка является не средним баллом, а определяется с учетом тех видов заданий, которые для данной работы являются основными.

Оценка ответов учащихся

Оценка – это определение степени усвоения учащимися знаний, умений, навыков в соответствии с требованиями государственного образовательного стандарта.

1. Устный ответ оценивается **отметкой «5»**, если учащийся:

- полно раскрыл содержание материала в объеме, предусмотренном программой и учебником;
- изложил материал грамотным языком в определенной логической последовательности, точно используя специальную терминологию и символику;
- правильно выполнил рисунки, чертежи, графики, сопутствующие ответу;
- показал умение иллюстрировать теоретические положения конкретными примерами, применять их в новой ситуации при выполнении практического задания;
- продемонстрировал усвоение ранее изученных сопутствующих вопросов, сформированность и устойчивость используемых при ответе умений и навыков;
- отвечал самостоятельно без наводящих вопросов учителя;
- возможны одна-две неточности при освещении второстепенных вопросов или в рисунках, чертежах и т.д., которые ученик легко исправил по замечанию учителя.

2. Ответ оценивается **отметкой «4»**, если он удовлетворяет в основном требованиям

отметку «5», но при этом имеет один из недостатков:

- в изложении допущены небольшие пробелы, не исказившие содержание ответа;
- допущены один-два недочета при освещении основного содержания ответа, исправленные после замечания учителя;
- допущены ошибка или более двух недочетов при освещении второстепенных вопросов или в рисунках, чертежах и т.д., легко исправленных по замечанию учителя.

3. Отметка «3» ставится в следующих случаях:

- неполно или непоследовательно раскрыто содержание материала, но показано общее понимание вопроса и продемонстрированы умения, достаточные для дальнейшего усвоения программного материала;
- имелись затруднения или допущены ошибки в определении понятий, использовании специальной терминологии, чертежах, выкладках, исправленные после нескольких наводящих вопросов учителя;
- учащийся не справился с применением теории в новой ситуации при выполнении практического задания, но выполнил задания обязательного уровня сложности по данной теме;
- при знании теоретического материала выявлена недостаточная сформированность основных умений и навыков.

Оценка контрольных и самостоятельных письменных работ

Оценка "5" ставится, если ученик:

- выполнил работу без ошибок и недочетов в требуемом на «отлично» объеме;
- допустил не более одного недочета в требуемом на «отлично» объеме;

Оценка "4" ставится, если ученик выполнил работу полностью, но допустил в ней:

- не более одной негрубой ошибки и одного недочета в требуемом на «отлично» объеме;
- или не более трех недочетов в требуемом на «отлично» объеме.

Оценка "3" ставится, если ученик правильно выполнил не менее половины работы или допустил:

- не более двух грубых ошибок в требуемом на «отлично» объеме;
- или не более одной грубой и одной негрубой ошибки и одного недочета;
- или не более двух-трех негрубых ошибок;
- или одной негрубой ошибки и трех недочетов;
- или при отсутствии ошибок, но при наличии четырех-пяти недочетов.

Критерии выставления оценок за проверочные тесты


1. Критерии выставления оценок за тест

- Время выполнения работы: на усмотрение учителя.
- Оценка «5» - 100 – 90% правильных ответов, «4» - 70-90%, «3» - 50-70%, «2» - менее 50% правильных ответов.

Приложение №1
ТЕМАТИЧЕСКИЕ КОНТРОЛЬНО-ИЗМЕРИТЕЛЬНЫЕ МАТЕРИАЛЫ
7 класс

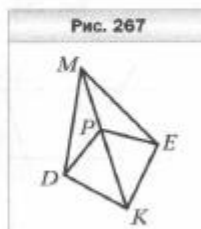
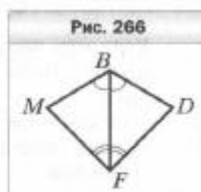
Контрольная работа по теме "Простейшие геометрические фигуры и их свойства"

1. Луч OD проходит между сторонами угла AOB . Найдите величину угла DOB , если $\angle AOB = 87^\circ$, $\angle AOD = 38^\circ$.
2. Один из углов, образованных при пересечении двух прямых, равен 63° . Найдите градусные меры остальных углов.
3. Один из смежных углов на 52° больше другого. Найдите эти углы.
4. На рисунке 265 $AB = CD$, $AC = CE$. Докажите, что $BC = DE$.
5. Углы ABC и CBD — смежные, луч BM — биссектриса угла ABC , угол ABM в 2 раза больше угла CBD . Найдите углы ABC и CBD .
6. Точки A, B и C лежат на одной прямой, $AB = 15$ см, отрезок AC в 4 раза больше отрезка BC . Найдите отрезок AC .



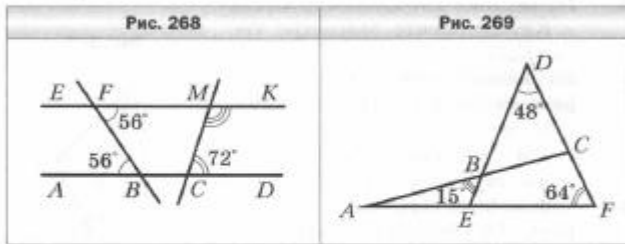
Контрольная работа по теме "Треугольники"

1. Докажите равенство треугольников MBF и DBF (рис. 266), если $\angle MBF = \angle DBF$, $\angle MFB = \angle DFB$.
2. Найдите стороны равнобедренного треугольника, если его периметр равен 84 см, а боковая сторона на 18 см больше основания.
3. На рисунке 267 $DP = PE$, $DK = KE$. Докажите равенство углов KDM и KEM .
4. На боковых сторонах AB и BC равнобедренного треугольника ABC отметили соответственно точки E и F такие, что $AE = CF$. Докажите, что $\angle ACE = \angle CAF$.
5. Серединый перпендикуляр стороны AB треугольника ABC пересекает его сторону AC в точке D . Найдите периметр треугольника BDC , если $AC = 8$ см, $BC = 6$ см.

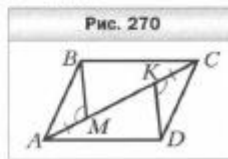


Контрольная работа по теме "Параллельные прямые, сумма углов треугольника"

1. Угол при вершине равнобедренного треугольника равен 56° . Найдите углы при основании этого треугольника.
2. Найдите градусную меру угла CMK (рис. 268).
3. Какова градусная мера угла A , изображённого на рисунке 269?




4. В треугольнике ABC известно, что $\angle C = 90^\circ$, $\angle B = 30^\circ$. На катете BC отметили точку D такую, что $\angle ADC = 60^\circ$. Найдите катет BC , если $CD = 5$ см.
5. Известно, что $AB \parallel CD$, $AM = CK$, $\angle AMB = \angle CKD$ (рис. 270). Докажите, что $BC \parallel AD$.



Контрольная работа по теме "Окружность и круг. Геометрические построения"

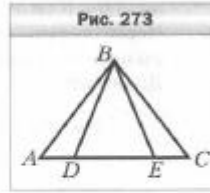
1. На рисунке 271 точка O — центр окружности, $\angle AOC = 50^\circ$. Найдите угол BCO .
2. К окружности с центром O провели касательную AB (B — точка касания). Найдите радиус окружности, если $AB = 8$ см и $\angle AOB = 45^\circ$.
3. Через концы диаметра AB окружности с центром O проведены параллельные хорды BC и AD (рис. 272). Докажите, что $AD = BC$.



4. Постройте равнобедренный треугольник по медиане, проведённой к основанию, и углу между этой медианой и боковой стороной треугольника.
5. На данной окружности постройте точку, находящуюся на данном расстоянии от данной прямой. Сколько решений может иметь задача?

Итоговая контрольная работа

- В треугольнике MPK известно, что $\angle M = 64^\circ$, $\angle P = 46^\circ$. Укажите верное неравенство:
 1) $MK > PK$; 3) $MK > PM$;
 2) $PK > PM$; 4) $PM > MK$.
- Докажите, что треугольник ABC равнобедренный (рис. 273), если $AD = EC$ и $\angle BDE = \angle BED$.
- В треугольнике DEF известно, что $\angle EDF = 68^\circ$, $\angle DEF = 44^\circ$. Биссектриса угла EDF пересекает сторону EF в точке K . Найдите угол DKF .
- Боковая сторона равнобедренного треугольника делится точкой касания вписанной окружности в отношении $3 : 2$, считая от вершины угла при основании треугольника. Найдите стороны треугольника, если его периметр равен 64 см.
- Отрезок BM — медиана равнобедренного треугольника ABC ($AB = BC$). На стороне AB отметили точку K такую, что $KM \parallel BC$. Докажите, что $BK = KM$.

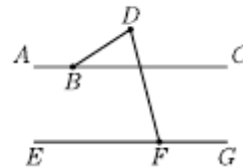


8 класс.

Входная контрольная работа

1.

На параллельных прямых AC и EG лежат точки B и F . Отрезок FD пересекает прямую AC (см. рисунок). Найдите градусную меру угла DFG , если известно, что $\angle ABD = 138^\circ$ и $\angle BDF = 62^\circ$.



2.

Какие из следующих утверждений верны?

- Существует равнобедренный треугольник, в котором один из углов в два раза больше другого.
- В любом прямоугольном треугольнике один из катетов в два раза меньше другого.
- При пересечении двух любых прямых сумма образованных ими вертикальных углов равна 180° .
- В любом треугольнике длина одной из сторон меньше суммы длин двух других сторон.

В треугольнике ABC проведены медиана BM и высота BH . Известно, что $AH = 54$, $BC = BM$.

3.

Найдите длину стороны AC .

В выпуклом четырёхугольнике $ABCD$ углы ABC и ADC равны соответственно 77° и 74° .

4.

Найдите угол CBD , если $AB = AC = AD$.

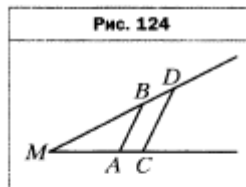
Контрольная работа по теме "Четырёхугольники"

- Одна из сторон параллелограмма на 6 см больше другой, а его периметр равен 48 см. Найдите стороны параллелограмма.
- В прямоугольнике $ABCD$ диагонали пересекаются в точке O , $AB = 9$ см, $AC = 16$ см. Найдите периметр треугольника COD .
- Один из углов ромба равен 72° . Найдите углы, которые образует сторона ромба с его диагоналями.

- Основания равнобокой трапеции равны 3 см и 7 см, а диагональ делит тупой угол трапеции пополам. Найдите периметр трапеции.
- Найдите углы четырёхугольника $ABCD$, вписанного в окружность, если $\angle ADB = 43^\circ$, $\angle ACD = 37^\circ$, $\angle CAD = 22^\circ$.
- Высота равнобокой трапеции равна 9 см, а её диагонали перпендикулярны. Найдите периметр трапеции, если её боковая сторона равна 12 см.

Контрольная работа по теме "Подобные треугольники"

- На рисунке 124 $AB \parallel CD$, $MA = 12$ см, $AC = 4$ см, $BD = 6$ см. Найдите отрезок MB .
- Треугольники ABC и $A_1B_1C_1$ подобны, причём сторонам AB и BC соответствуют стороны A_1B_1 и B_1C_1 . Найдите неизвестные стороны этих треугольников, если $AB = 8$ см, $BC = 10$ см, $A_1B_1 = 4$ см, $A_1C_1 = 6$ см.
- Отрезок AK — биссектриса треугольника ABC , $AB = 12$ см, $BK = 8$ см, $CK = 18$ см. Найдите сторону AC .
- На стороне BC треугольника ABC отметили точку M так, что $BM : MC = 2 : 9$. Через точку M провели прямую, которая параллельна стороне AC треугольника и пересекает сторону AB в точке K . Найдите сторону AC , если $MK = 18$ см.
- В трапеции $ABCD$ с основаниями AD и BC диагонали пересекаются в точке O , $BC : AD = 3 : 5$, $BD = 24$ см. Найдите отрезки BO и OD .



Контрольная работа по теме "Площадь"

- Чему равна сумма углов выпуклого четырнадцатиугольника?
- Площадь параллелограмма равна 84 см^2 , а одна из его сторон — 12 см. Найдите высоту параллелограмма, проведённую к этой стороне.
- Боковая сторона равнобедренного треугольника равна 15 см, а высота, проведённая к основанию, — 9 см. Найдите площадь треугольника.
- Найдите площадь ромба, сторона которого равна 26 см, а одна из диагоналей на 28 см больше другой.
- Боковая сторона равнобокой трапеции равна $10\sqrt{2}$ см и образует с основанием угол 45° . Найдите площадь трапеции, если в неё можно вписать окружность.
- Биссектриса прямого угла прямоугольного треугольника делит гипотенузу на отрезки длиной 15 см и 20 см. Найдите площадь треугольника.

Контрольная работа по теме "Теорема Пифагора и начала тригонометрии"

- Высота прямоугольного треугольника, проведённая к гипотенузе, делит её на отрезки длиной 9 см и 16 см. Найдите меньший катет треугольника.
 - В прямоугольном треугольнике гипотенуза равна 13 см, а один из катетов — 12 см. Найдите периметр треугольника.
 - Диагонали ромба равны 12 см и 16 см. Найдите сторону ромба.
 - Высота BM равнобедренного треугольника ABC ($AB = AC$) делит сторону AC на отрезки $AM = 15$ см и $CM = 2$ см. Найдите основание треугольника ABC .
- В треугольнике ABC известно, что $\angle C = 90^\circ$, $AB = 25$ см, $BC = 20$ см. Найдите:
- $\cos B$; 2) $\operatorname{tg} A$.
- В прямоугольном треугольнике ABC ($\angle C = 90^\circ$) известно, что $AB = 15$ см, $\sin A = 0,6$. Найдите катет BC .

Итоговая контрольная работа

1. Найдите углы параллелограмма, если один из них на 26° больше другого.
2. Продолжения боковых сторон AB и CD трапеции $ABCD$ пересекаются в точке M . Меньшее основание BC равно 5 см, $BM = 6$ см, $AB = 12$ см. Найдите большее основание трапеции.
3. Высота AM треугольника ABC делит его сторону BC на отрезки BM и MC . Найдите сторону AC , если $AB = 10\sqrt{2}$ см, $MC = 24$ см, $\angle B = 45^\circ$.
4. Основания равнобокой трапеции равны 12 см и 20 см, а диагональ является биссектрисой её тупого угла. Найдите площадь трапеции.
5. Перпендикуляр, опущенный из точки окружности на её диаметр, делит его на два отрезка, один из которых на 27 см больше другого. Найдите радиус окружности, если длина данного перпендикуляра равна 18 см.

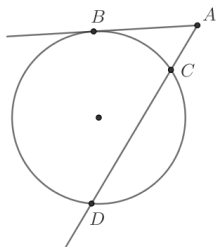
9 класс

Контрольная работа по теме "Решение треугольников"

1. Две стороны треугольника равны 4 см и 8 см, а угол между ними — 60° . Найдите третью сторону треугольника и его площадь.
2. Два угла треугольника равны 30° и 135° , а сторона, лежащая против меньшего из них, равна 4 см. Найдите сторону треугольника, лежащую против большего из данных углов.
3. Определите, остроугольным, прямоугольным или тупоугольным является треугольник со сторонами 4 см, 5 см и 7 см.
4. Одна сторона треугольника на 2 см больше другой, а угол между ними равен 120° . Найдите периметр треугольника, если его третья сторона равна 7 см.
5. Найдите радиус окружности, вписанной в треугольник со сторонами 7 см, 15 см и 20 см.
6. Стороны треугольника равны 7 см, 11 см и 12 см. Найдите медиану треугольника, проведённую к его большей стороне.

Контрольная работа по теме

"Преобразование подобия. Метрические соотношения в окружности"



1. Хорды AB и CD окружности пересекаются в точке E . Найдите ED , если $AE=3$, $BE=4$, $CE=2$.
2. Через точку A , лежащую вне окружности, проведены две прямые. Одна прямая касается окружности в точке K . Другая прямая пересекает окружность в точках B и C , причём $AB = 2$, $AC = 8$. Найдите AK .
3. Из точки A вне окружности проведена касательная AB и секущая AD , как показано на рисунке. Найдите длину отрезка AC , если $CD=5$, а длина отрезка касательной равна $6\sqrt{2}$.

4. Точки M и P лежат соответственно на сторонах BC и AB треугольника ABC , причем $MP \parallel AC$. Найти сторону AB , если $AC=12$ см, $MP=4$ см, $PB=5$ см?

Контрольная работа по теме "Декартовы координаты на плоскости"

1. Найдите длину отрезка AB и координаты его середины, если $A(-3; 2)$ и $B(1; -5)$.
2. Составьте уравнение окружности, центр которой находится в точке $M(1; -3)$ и которая проходит через точку $K(-4; 2)$.
3. Найдите координаты вершины D параллелограмма $ABCD$, если $A(-2; 3)$, $B(4; 5)$, $C(2; 1)$.
4. Составьте уравнение прямой, проходящей через точки $K(3; -2)$ и $P(5; 2)$.
5. Найдите координаты точки, принадлежащей оси абсцисс и равноудалённой от точек $A(-2; 3)$ и $B(6; 1)$.
6. Составьте уравнение прямой, которая параллельна прямой $y = -3x + 10$ и проходит через центр окружности $x^2 + y^2 + 2x - 4y + 1 = 0$.

Контрольная работа по темам "Правильные многоугольники.

Окружность. Движения плоскости"

1. Найдите углы правильного 72-угольника.
2. Найдите площадь круга, вписанного в правильный треугольник со стороной 6 см.
3. В окружность вписан правильный шестиугольник со стороной 4 см. Найдите сторону квадрата, описанного около этой окружности.
4. Радиус окружности, описанной около правильного многоугольника, равен $4\sqrt{2}$ см, а сторона многоугольника — 8 см. Найдите: 1) радиус окружности, вписанной в многоугольник; 2) количество сторон многоугольника.
5. Сторона треугольника равна $6\sqrt{3}$ см, а прилежащие к ней углы равны 50° и 70° . Найдите длины дуг, на которые делит окружность, описанную около треугольника, его вершины.

Итоговая контрольная работа

1. Две стороны параллелограмма равны 3 см и 5 см, а угол между ними — 30° . Найдите:
 - 1) бóльшую диагональ параллелограмма;
 - 2) площадь параллелограмма.
2. В треугольнике ABC $AC = 6\sqrt{2}$ см, $BC = 6$ см, $\angle A = 30^\circ$. Найдите угол B .
3. Около правильного шестиугольника $ABCDEF$ со стороной 8 см описана окружность с центром O .
 - 1) Найдите площадь сектора, содержащего дугу ACE .
 - 2) Укажите, какой отрезок является образом стороны CD при повороте вокруг центра O против часовой стрелки на угол 120° ?
4. Докажите, что четырёхугольник $ABCD$ с вершинами в точках $A(3; 5)$, $B(-1; -1)$, $C(-7; -5)$ и $D(-3; 1)$ является ромбом.
5. Найдите уравнение окружности, являющейся образом окружности $(x - 2)^2 + (y + 6)^2 = 36$ при параллельном переносе на вектор $\vec{a}(-4; 1)$.